



Kangourou Italia
Gara del 19 marzo 2009
Categoria Ecolier
Per studenti di quarta o quinta della
scuola primaria



Ecolier

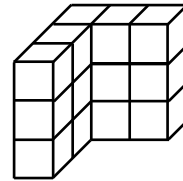
I quesiti dal N. 1 al N. 8 valgono 3 punti ciascuno

1. Hai in tasca una banconota da 5 euro, una moneta da 2 euro e una moneta da 1 euro e devi pagare uno dei seguenti importi.

A) 3 € B) 4 € C) 6 € D) 7 € E) 8 €

Per quale di essi devi necessariamente attendere il resto?

2. Usando cubetti tutti uguali fra loro e solo appoggiandoli uno sull'altro, Carlo ha costruito un grande cubo di 3 cubetti per ogni lato. Per fargli un dispetto, la sua sorellina Anna ha sottratto dal cubo grande alcuni cubetti e a Carlo è rimasta la struttura che vedi in figura. Quanti cubetti ha portato via Anna?




A) 6 B) 8 C) 10 D) 12 E) 16

3. Quattro bastoncini hanno in tutto otto estremità. Quante estremità hanno in tutto sei bastoncini e mezzo?

A) 6 B) 8 C) 12 D) 13 E) 14

4. Nella prima riga della figura vedi il numero 930, ottenuto illuminando alcuni quadratini su uno schermo.



Ogni quadratino può passare da illuminato a spento o viceversa premendo un pulsante. Vuoi ottenere il numero 806 che appare nella seconda riga: qual è il più piccolo numero di pulsanti che ti basta premere per ottenere lo scopo?



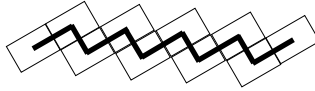
A) 5 B) 6 C) 7 D) 8 E) 9

5. Enrica ha tirato un dado quattro volte. Le facce del dado sono numerate da 1 a 6 e, sommando i punteggi ottenuti in ogni lancio, Enrica ha totalizzato 23. Quante volte ha ottenuto 6?

A) 0 B) 1 C) 2 D) 3 E) 4

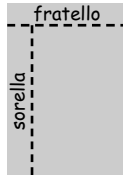


6. Antonio ha incollato sul tavolo 10 foglietti rettangolari tutti uguali fra loro nel modo che è indicato dalla figura; i lati dei foglietti misurano 4 e 6 centimetri. Su di essi Antonio ha tracciato la linea marcata in grassetto, costruita collegando i centri dei foglietti mediante tratti rettilinei. Quanti centimetri è lunga la linea tracciata da Antonio?



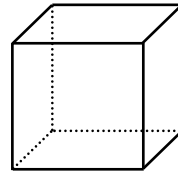
- A) 24 B) 40 C) 46 D) 50 E) 56

7. Pietro aveva una tavoletta di cioccolata suddivisa in quadratini. Ne ha dato una striscia di 5 quadratini a suo fratello e una striscia di 7 quadratini a sua sorella; le strisce sono state staccate dalla tavoletta come indica la figura. Di quanti quadratini era composta inizialmente la tavoletta di cioccolata?



- A) 20 B) 40 C) 50 D) 60 E) 80

8. Hai un cubo e vuoi colorarne ognuno dei vertici rispettando la regola seguente: due vertici che siano alle estremità di uno stesso spigolo devono ricevere colori diversi. Qual è il più piccolo numero di colori che ti consente di raggiungere il tuo scopo?



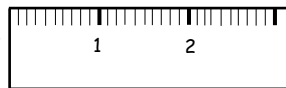
- A) 2 B) 3 C) 4 D) 6 E) 8

I quesiti dal N. 9 al N. 16 valgono 4 punti ciascuno

9. In una scuola di danza attualmente vi sono 25 ragazzi e 19 ragazze. A partire da martedì prossimo, ogni martedì si aggiungeranno 2 ragazzi e 3 ragazze. Fra quanti martedì il numero delle ragazze sarà uguale al numero dei ragazzi?

- A) 6 B) 5 C) 4 D) 3 E) 2

10. La figura rappresenta un righello lungo esattamente 10 centimetri. I millimetri sono indicati dai trattini verticali. Quanti sono questi trattini?



- A) 101 B) 95 C) 98 D) 99 E) 100

11. Un lato di un rettangolo è lungo 8 centimetri ed è lungo il doppio dell'altro lato. Quanti centimetri è lungo il lato di un quadrato che ha lo stesso perimetro del rettangolo?

- A) 4 B) 6 C) 8 D) 12 E) 24

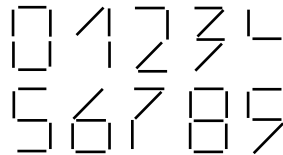


12. Vuoi completare la griglia 4 x 4 in figura inserendo in ognuna delle caselle rimaste libere un numero scelto fra 1, 2, 3, 4. Vuoi farlo in modo che in ogni riga, in ogni colonna e in ognuna delle quattro sotto-griglie 2 x 2 evidenziate, ogni numero appaia una e una sola volta. In quanti modi diversi puoi realizzare il tuo scopo?

1	2		
		3	
		4	

- A) 1 B) 2 C) 4 D) 8
 E) È impossibile realizzare quanto richiesto.

13. Le dieci cifre in figura sono costruite accostando opportunamente degli stuzzicadenti tutti uguali fra loro. Fra i numeri di due cifre, ho costruito quello che richiede l'impiego della maggiore quantità di stuzzicadenti. Quanti ne ho usati?

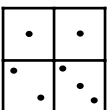
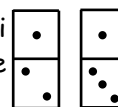


- A) 10 B) 11 C) 12 D) 13 E) 14

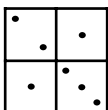
14. Anna, Bice e Carla hanno raccolto complessivamente 7 funghi. Ognuna di loro ha raccolto almeno un fungo, ma ognuna ha raccolto un numero di funghi diverso da ciascuna delle altre due. Anna ne ha raccolti meno di tutte e Carla più di tutte. Quanti funghi ha raccolto Bice?

- A) 1 B) 2 C) 3 D) 4
 E) La situazione descritta non può essersi verificata.

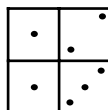
15. Hai le due tessere del domino che vedi in figura e sei libero di accostarle come vuoi. Quale delle seguenti figure non puoi realizzare?



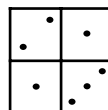
A



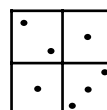
B



C



D



E

16. Alle 6:15 il tuo orologio digitale, che a quell'ora segnava l'ora esatta, è caduto in terra e ha incominciato ad andare all'indietro, sempre però rispettando esattamente il tempo. Alle 19:30 hai guardato di nuovo l'orologio: quale ora indicava?

- A) 17:00 B) 17:45 C) 18:30 D) 19:00 E) 19:15



I quesiti dal N. 17 al N. 24 valgono 5 punti ciascuno

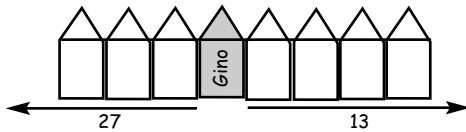
17. Hai calcolato la somma seguente $1 + 11 + 111 + \dots + 111111111 + 1111111111$ che è la somma dei primi dieci numeri interi che puoi scrivere usando solo la cifra 1. Quante cifre tutte diverse fra loro compaiono nel risultato?

- A) 2 B) 5 C) 8 D) 9 E) 10

18. Un treno lungo 180 metri impiega 5 secondi a passare davanti ad una persona. Poco dopo il treno imbecca un viadotto lungo 360 metri. Se la velocità del treno rimane la stessa, quanti secondi passano dall'istante in cui il treno imbecca il viadotto a quello in cui l'ultima carrozza ne esce?

- A) 15 B) 10 C) 20 D) 30 E) 25

19. Le case di Gino e Silvia sono sullo stesso lato della stessa via. Prima della casa di Gino vi sono altre 27 case, dopo ve ne sono altre 13. La casa di Silvia invece ha tante case alla sua sinistra quante alla sua destra. Quante case ci sono tra quella di Gino e quella di Silvia (senza contare le loro)?



- A) 6 B) 7 C) 8 D) 14 E) 21

20. Un codice segreto è formato da 6 cifre; la somma delle cifre di posto pari è uguale alla somma delle cifre di posto dispari. Il codice corrisponde certamente a uno dei seguenti, dove le cifre indicate con * sono illeggibili. Quale?

- A) $81^{**}61$ B) $7^{*}727^{*}$ C) $4^{*}4141$ D) $12^{*}9^{*}8$ E) $181^{*}2^{*}$

21. Giorgio colleziona figurine di calciatori. Ogni anno il numero delle sue figurine è la somma dei numeri delle sue figurine nei due anni immediatamente precedenti. L'anno scorso Giorgio aveva 60 figurine e quest'anno ne ha 96. Quante figurine aveva nel 2006?

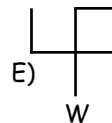
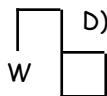
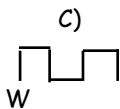
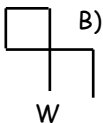
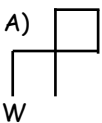
- A) 20 B) 24 C) 36 D) 40 E) 48



22. Un numero palindromo è un numero che rimane lo stesso se viene letto da destra a sinistra invece che da sinistra a destra: ad esempio i numeri 101 e 1221 sono palindromi, mentre il numero 1231 non lo è. Sul contachilometri della mia auto ora compare il numero palindromo 15951. Quanti chilometri dovrò percorrere perché appaia il numero palindromo successivo?

- A) 100 B) 110 C) 710 D) 900 E) 1010

23. Giovanni ha tracciato una linea costituita da alcuni segmenti rettilinei. Alla fine di ogni segmento ha sempre girato ad angolo retto, o a destra o a sinistra rispetto al verso di provenienza. Ad ogni cambio di direzione ha riportato su un foglio a parte uno dei simboli X o Y: uno dei due, non sai quale, indica sempre che ha girato a sinistra, l'altro che ha girato a destra. Sul foglio a parte c'è la sequenza XYYYXX: quale potrebbe essere, fra le seguenti, la linea tracciata da Giovanni a partire dal punto W?



24. Nel paese di Piedistrani ogni abitante ha il piede sinistro più lungo di uno o due numeri rispetto al piede destro. I negozi, tuttavia, sono come nel resto del mondo: vendono scarpe a coppie, una scarpa destra e una sinistra dello stesso numero. Per risparmiare, alcuni amici di Piedistrani decidono di associarsi e di comprare le scarpe tutti insieme, per poi accoppiarle nel modo che a loro conviene. Così facendo, ognuno prende due scarpe e rimangono inutilizzate una scarpa del numero 36 e una del numero 45. Allora il minimo numero possibile di questi amici è

- A) 5 B) 6 C) 7 D) 8 E) 9



2009

Categoria Ecolier

Per studenti del quarto e quinto anno della scuola elementare

1. Risposta **B)** Gli importi ottenibili pagando con una, due o tutte e tre le monete sono 1, 2, 5, 3, 6, 7, 8 Euro.
2. Risposta **D)** La parte sottratta al cubo è alta 3 cubetti, larga e profonda 2, quindi è costituita da $3 \times 2 \times 2 = 12$ cubetti.
3. Risposta **E)** Anche il mezzo bastoncino ha due estremità, quindi 14.
4. Risposta **B)** Devo accendere un quadratino per trasformare 9 in 8, spegnerne 1 e accenderne 2 per trasformare 3 in 0, spegnerne 1 e accenderne 1 per trasformare 0 in 6. In totale devo premere 6 pulsanti.
5. Risposta **D)** Posso ottenere 23 sommando quattro numeri non più grandi di 6 solo se ho tre 6 e un 5.
6. Risposta **C)** La linea è formata unendo i centri dei foglietti adiacenti con 9 segmenti, paralleli alternatamente al lato lungo e a quello corto del rettangolo e lunghi quanto il lato a cui sono paralleli, e inizia con un segmento lungo 6 cm.; la lunghezza totale è $5 \times 6 + 4 \times 4 = 46$ centimetri.
7. Risposta **B)** Inizialmente la tavoletta era larga 5 quadratini e lunga $7 + 1 = 8$ quadratini, quindi composta da 40 quadratini.
8. Risposta **A)** Fissato un colore per un primo vertice, posso usare lo stesso colore anche per i 3 vertici a lui opposti sulle 3 facce del cubo a

cui appartiene; usando un colore diverso per i 4 vertici rimanenti, è rispettata la regola data.

9. Risposta **A)** La differenza tra il numero dei ragazzi e quello delle ragazze è 6, e diminuisce di una unità ad ogni martedì: i numeri saranno uguali tra 6 martedì.
10. Risposta **D)** Ci sono 9 trattini per la suddivisione in centimetri e, in ognuno dei 10 intervallini così ottenuti, 9 trattini per la suddivisione in millimetri; in totale $9 + 10 \times 9 = 99$ trattini.
11. Risposta **B)** Il perimetro del rettangolo misura $2 \times (8 + 4) = 24$ cm., quindi il lato del quadrato è lungo 6 cm.
12. Risposta **E)** Nel posto che sta sulla seconda riga e sulla terza colonna non posso mettere nessuno dei 4 numeri, poiché 1 e 2 compaiono già sulla stessa riga, e 3 e 4 sulla stessa colonna.
13. Risposta **E)** La cifra che richiede più stuzzicadenti è l'8, che ne richiede 7. Il numero di due cifre costruito è 88, impiegando 14 stuzzicadenti.
14. Risposta **B)** Ciascuna di loro ha almeno 1 fungo: i 4 rimasti vanno distribuiti tra loro tre in numeri diversi: l'unica possibilità è darne rispettivamente 0, 1 e 3, quindi Bice ha raccolto 2 funghi.
15. Risposta **E)** Nella figura E, la tessera con 1 e 3 pallini deve essere messa in basso orizzontale; la tessera orizzontale in alto non coincide con quella assegnata, che, messa in quella posizione, avrebbe i 2 pallini in basso a sinistra e in alto a destra.

16. Risposta **A)** Dalle 6.15 alle 19.30 sono passate 13.15 ore, in cui l' orologio è andato indietro invece che avanti: 13.15 ore prima delle 6.15 erano le 17.00.
17. Risposta **D)** La cifra 1 compare 10 volte al posto delle unità: ho somma 10, quindi 0 unità e riporto di 1 decina; poi compare 9 volte al posto delle decine e sommando il riporto ho 10, quindi 0 decine e riporto di 1 centinaio. Al posto delle centinaia ho 1 solo 8 volte, più 1 di riporto quindi la somma avrà 9. Da questo punto in poi non ho più riporti ed ho 7 addendi con 1 al posto delle migliaia, 6 con 1 al posto delle decine di migliaia, ecc.: il numero che ottengo è 1234567900, formato con 9 cifre diverse tra loro.
18. Risposta **A)** Dopo 10 secondi da quando ha imboccato il viadotto, la testa del treno è all'uscita del viadotto, e la coda è a metà viadotto. La coda impiegherà 5 secondi a percorrere i 180 m. residui, e quindi il treno uscirà dal viadotto dopo 15 secondi.
19. Risposta **A)** Le case della strada sono 41, e quella di Silvia è la 21-sima; le case tra quella di Silvia e Gino sono 6.
20. Risposta **D)** In A) , qualunque cifra metta al terzo e quarto posto, avrò somma delle cifre dispari almeno 15 e somma delle cifre pari non superiore a 11, in B) e C) ho somma delle cifre dispari, rispettivamente, 21 e 16, mentre la somma delle cifre pari potrà essere al massimo 20 e 11, e in E) ho somma delle cifre dispari 4 mentre la somma delle cifre pari sarà almeno 10. La risposta corretta è D) e possiamo osservare che le cifre mancanti devono necessariamente essere due 9.

21. Risposta **B)** Giorgio aveva $96 - 60 = 36$ figurine nel 2007, $60 - 36 = 24$ nel 2006.
22. Risposta **B)** Non posso trovare altri numeri palindromi finché non cambia la prima coppia di cifre, quindi cerco il primo numero palindromo dopo 16000, che è 16061. Avrò quindi percorso $16061 - 15951 = 110$ chilometri.
23. Risposta **E)** Scartiamo subito i percorsi C) e D) che iniziano con due svolte nello stesso verso, quindi non con XY, e A) che gira a destra, a sinistra e poi di nuovo a destra (quindi ha una sequenza iniziale *XYX* o *YXY*). Per scegliere tra B) ed E) osserviamo che in B) le ultime due svolte sono una a sinistra ed una a destra, e quindi non concordano con la sequenza assegnata che termina con *XX*.
24. Risposta **A)** Per passare dal numero 36 al 45 comprando il minimo numero di paia di scarpe occorrerà averne 5 paia che differiscono di due numeri e 1 che differisce di un numero dal precedente (ad esempio scarpe n.36,38,40,42,44,45). Avremo quindi 12 scarpe che, scartate la scarpa sinistra n.36 e la destra n.45, serviranno a 5 amici.